






INSTRUCCIÓN: CUENTA LOS ELEMENTOS DE CADA CONJUNTO Y MARCA EL NÚMERO QUE CORRESPONDE.


		
8	4	6

		
10	9	8


		
11	16	13






		
5	6	7

		
13	14	15

		
4	6	3

INSTRUCCIÓN: CUENTA LOS ELEMENTOS QUE SON IGUALES Y ESCRIBE EL NÚMERO QUE CORRESPONDE DEBAJO DE LA LINEA PUNTEADA



				
<input type="text"/>	<input type="text"/>	<input type="text"/>	<input type="text"/>	<input type="text"/>

SOPA DE NÚMEROS

INSTRUCCIONES: ENCIERRA TODOS LOS NÚMEROS 1 QUE ENCUENTRES EN EL RECUADRO.

1	1	1	1	1	1	4
4	7	4	5	1	7	
9	1	1	1	1	1	9
1	1	2	2	2	7	
1	7	1	1	1	1	2
1	1	1	7	1	1	1

SOPA DE NÚMEROS: MARCA CON UNA "X" TODOS LOS NUMEROS 2 QUE ENCUENTRES EN EL RECUADRO.

2	2	7	4	1	7	7
2	2	1	7	5	1	
1	2	7	4	7	7	
2	2	5	3	1	3	
2	7	2	2	2	2	
2	2	2	5	7	2	2

INSTRUCCIÓN: ESCRIBE LOS NÚMEROS QUE FALTAN PARA COMPLETAR CADA SECUENCIA

